

# 第五单元《绿色行动——100 以内的加减法(一)》

## 检测题(A 卷)(青岛版)

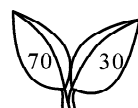
(时间:60 分钟 满分:100 分)

### 一、看谁算得又对又快。(20 分)

$29 - 9 =$	$63 + 4 =$	$29 + 60 =$	$80 - 20 =$	$16 + 8 =$
$75 + 3 =$	$6 + 70 =$	$8 + 53 =$	$42 + 8 =$	$56 - 6 =$
$92 - 4 =$	$28 + 5 =$	$30 + 22 =$	$21 - 4 =$	$64 + 9 =$
$48 + 7 =$	$55 - 8 =$	$39 + 6 =$	$4 + 26 =$	$25 - 9 =$

### 二、填空。(19 分)

1. 叶片上两个数的和是多少? 差是多少? 写在下面的横线上。



和 \_\_\_\_\_ 差 \_\_\_\_\_      和 \_\_\_\_\_ 差 \_\_\_\_\_      和 \_\_\_\_\_ 差 \_\_\_\_\_

2. 在○里填上“>”、“<”或“=”。

$2 + 26 \bigcirc 46$	$7 + 56 \bigcirc 63$	$72 + 8 \bigcirc 70$
$75 - 50 \bigcirc 70$	$24 \bigcirc 84 - 6$	$48 + 6 \bigcirc 44$

3. 90 比( )大 1, 比( )小 1。

4. 和 89 相邻的两个数是( )和( )。

5. 比 69 大比 73 小的数有( )、( )、( )。

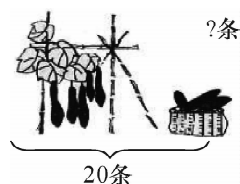
### 三、按要求把下列各数填入括号里。(10 分)

15、78、43、9、53、85、7、42、100、25、35

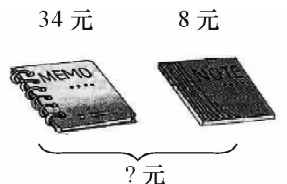
这些数中一位数( ); 比 50 大的数( ); 个位是 5 的数( )。

### 四、看图列式或填空。(12 分)

1. 看图列式计算。

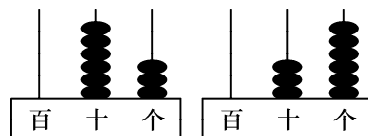


$$\square \bigcirc \square = \square$$

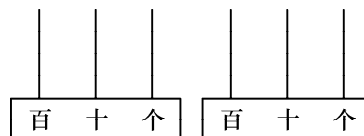


$$\square \bigcirc \square = \square$$

2. 根据要求填空。



$$( ) \bigcirc ( )$$



$$45 \bigcirc 100$$

### 五、按要求将你认为合适的答案圈起来。(10 分)

1. 书包的价钱比 80 元少一些。(90 元、78 元、82 元)

- 2. 玩具小汽车的价钱比 60 元贵多了! ( 68 元、95 元、48 元 )
- 3. 和 60 最接近的数。( 100、45、70、56 )
- 4.  $54 + 3$  的和是( 四十多、五十、五十多 )
- 5. 得数比 50 大的算式(  $59 - 9$ 、 $59 - 10$ 、 $59 - 8$  )

六、解决问题。(1、2 题各 5 分,3 题 9 分,4 题 10 分,计 29 分)

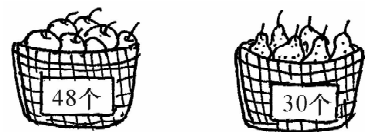
- 1. 一共要栽 36 棵树。栽了一些后,还要栽 8 棵树正好栽完。已经栽好了多少棵?

$$\square \bigcirc \square = \square (\text{棵})$$

- 2. 借走 7 本《数学故事》后还剩 38 本。原来有多少本《数学故事》?

$$\square \bigcirc \square = \square (\text{本})$$

- 3.



- (1) 苹果比梨多多少个?

$$\square \bigcirc \square = \square (\text{个})$$


- (2) 梨比苹果少多少个?

$$\square \bigcirc \square = \square (\text{个})$$

- (3) 苹果和梨一共有多少个?

$$\square \bigcirc \square = \square (\text{个})$$

- 4. 做风车。



请你自由的提出至少两个问题并解答。